

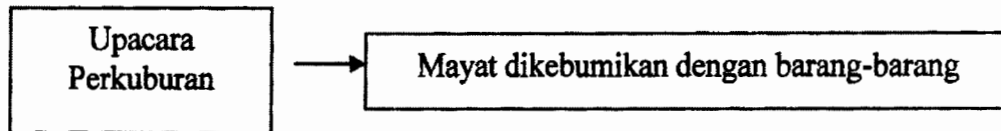


- 1 Jadual berikut berkaitan dengan peristiwa bersejarah di negara kita.

Tarikh	Peristiwa
1 Februari 2001	Putrajaya diisytihar sebagai Wilayah Persekutuan

Apakah ciri sejarah yang dapat dikaitkan dengan peristiwa tersebut ?

- A Tepat dan benar
  - B Sebab dan akibat
  - C Berunsur mitos
  - D Berlandaskan sumber lisan
- 2 Rajah berikut merujuk kepada kepercayaan masyarakat Zaman Paleolitik.



Barangan tersebut ialah

- A beliung
- B tembikar
- C makanan
- D anting-anting

- 3 Pernyataan berikut berkaitan dengan kerajaan awal di Asia Tenggara.

Kerajaan Srivijaya berjaya menguasai Selat Melaka, Selat Sunda dan Laut Jawa pada abad ketujuh Masihi

Apakah kesan daripada kejayaan tersebut ?

- A Sistem cukai lebih teratur
  - B Tanah jajahan bertambah luas
  - C Aktiviti perdagangan dapat dikawal
  - D Struktur pentadbiran semakin tersusun
- 4 Monolog berikut mungkin berlaku semasa pemerintahan Parameswara di Melaka.

Parameswara: Beta telah dikurniakan payung kuning, cap mohor dan sepersalinan pakaian oleh Kerajaan China

Mengapakah baginda mendapat kurniaan tersebut?

- A Lambang persahabatan
- B Tanda pengiktirafan
- C Simbol kesetiaan
- D Bukti penjajahan

[ Lihat sebelah

- 5 Maklumat berikut menerangkan peranan rakyat dalam usaha membangunkan Melaka.

- Orang Asli membekalkan hasil hutan
- Orang Laut menjaga keselamatan perairan

Apakah nilai yang boleh dicontohi daripada mereka ?

- I Taat setia
  - II Sedia berkorban
  - III Bertindak bijak
  - IV Berhemah tinggi
- A I dan II
  - B I dan IV
  - C II dan III
  - D III dan IV

- 6 Dialog berikut mungkin berlaku pada zaman Kesultanan Melayu Melaka.

Pedagang Arab : Kami ingin berdagang di sini!

Syahbandar : Tuan hamba perlu mendapatkan surat kebenaran berniaga

Apakah tujuan surat tersebut dikeluarkan ?

- A Menjaga keselamatan pedagang
- B Melancarkan urusan niaga pedagang
- C Mengelakkan perbalahan pedagang
- D Mengehadkan kedatangan pedagang

7 Mengapakah tokoh berikut bertindak demikian ?

Tun Perak, penghulu Kelang telah mengarahkan pengikutnya membawa keluarga masing-masing berpindah ke Melaka.

- A Mengurangkan penindasan penjajah
- B Mengelakkan wabak penyakit
- C Mengatasi kekurangan tanah
- D Meningkatkan semangat juang

8 Monolog berikut menggambarkan matlamat kedatangan Portugis ke Timur.



Sekiranya aku berjaya menakluki Selat Melaka, aku akan mendapat banyak keuntungan

Alfonso de Albuquerque

Apakah keuntungan yang dimaksudkan ?

- A Memonopoli hasil rempah
- B Menghapus ancaman lanun
- C Mengawal pungutan cukai
- D Menguasai kawasan pertanian

[ Lihat sebelah

9 Jadual berikut menerangkan kejayaan Portugis di Melaka.

Tarikh	Peristiwa
25 Julai 1511	Menguasai jambatan Sungai Melaka

Apakah faktor kejayaan tersebut ?

- A Keberkesanan propaganda perang
- B Penerimaan rahsia pertahanan
- C Kekuatan kubu pertahanan
- D Bantuan tentera upahan

10 Mengapakah kuasa berikut terlibat dalam Perang Tiga Segi ?

- |   |
|---|
| <ul style="list-style-type: none"> <li>• Aceh</li> <li>• Johor</li> <li>• Portugis</li> </ul> |
|---|

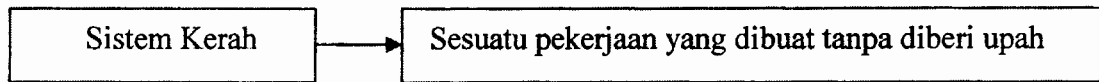
- A Merebut tanah jajahan
- B Membuktikan kekuatan tentera
- C Menguasai jalan perdagangan
- D Memonopoli hasil perlombongan

11 Pada kurun ke -18, kerajaan Kedah terpaksa menghadapi cabaran daripada kuasa luar.

Bagaimanakah Kedah menghadapi cabaran tersebut ?

- A Membina benteng pertahanan
- B Meningkatkan bilangan tentera
- C Memindahkan pusat pentadbiran
- D Menjalin hubungan persahabatan

12 Rajah berikut menunjukkan amalan dalam masyarakat Melayu tradisional.



Mengapakah sistem tersebut diamalkan ?

- A Memupuk kesetiaan penduduk
- B Menggambarkan semangat kerajinan
- C Menonjolkan perpaduan masyarakat
- D Memperlihatkan sikap tolak ansur

13 Senarai berikut merupakan cerita sastera lisan masyarakat Melayu tradisional .

- Si Luncai
- Pak Kaduk
- Lebai Malang

Apakah tujuan cerita tersebut disampaikan?

- A Memberi pengajaran
- B Mengekalkan adat resam
- C Mempamerkan bakat seni
- D Memupuk perpaduan

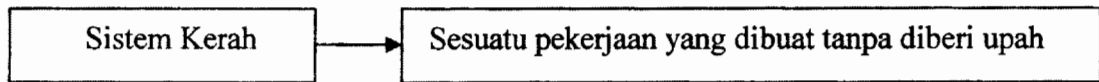
14 Dungal Anak Sepoi, Ketua Kaum Iban ingin membuka penempatan baru di muara Sungai Rajang tetapi beliau terdengar bunyi burung ketupung.

Apakah tindakan beliau ?

- A Musnahkan kawasan hutan
- B Tangguh kerja pembinaan
- C Pindah ke kawasan lain
- D Jalankan upacara semah

[ Lihat sebelah

- 12 Rajah berikut menunjukkan amalan dalam masyarakat Melayu tradisional.



Mengapakah sistem tersebut diamalkan ?

- A Memupuk kesetiaan penduduk  
 B Menggambarkan semangat kerajinan  
 C Menonjolkan perpaduan masyarakat  
 D Memperlihatkan sikap tolak ansur
- 13 Senarai berikut merupakan cerita sastera lisan masyarakat Melayu tradisional .

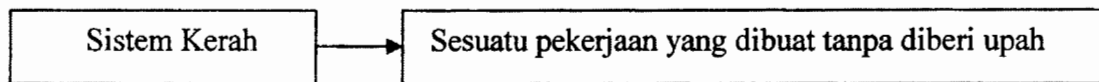
- Si Luncai
- Pak Kaduk
- Lebai Malang

Apakah tujuan cerita tersebut disampaikan?

- A Memberi pengajaran  
 B Mengekalkan adat resam  
 C Mempamerkan bakat seni  
 D Memupuk perpaduan
- 14 Dungal Anak Sepoi, Ketua Kaum Iban ingin membuka penempatan baru di muara Sungai Rajang tetapi beliau terdengar bunyi burung ketupung.  
 Apakah tindakan beliau ?
- A Musnahkan kawasan hutan  
 B Tangguh kerja pembinaan  
 C Pindah ke kawasan lain  
 D Jalankan upacara semah

[ Lihat sebelah

- 12 Rajah berikut menunjukkan amalan dalam masyarakat Melayu tradisional.



Mengapakah sistem tersebut diamalkan ?

- A Memupuk kesetiaan penduduk  
 B Menggambarkan semangat kerajinan  
 C Menonjolkan perpaduan masyarakat  
 D Memperlihatkan sikap tolak ansur
- 13 Senarai berikut merupakan cerita sastera lisan masyarakat Melayu tradisional .

- Si Luncai
- Pak Kaduk
- Lebai Malang

Apakah tujuan cerita tersebut disampaikan?

- A Memberi pengajaran  
 B Mengekalkan adat resam  
 C Mempamerkan bakat seni  
 D Memupuk perpaduan
- 14 Dungal Anak Sepoi, Ketua Kaum Iban ingin membuka penempatan baru di muara Sungai Rajang tetapi beliau terdengar bunyi burung ketupung.  
 Apakah tindakan beliau ?
- A Musnahkan kawasan hutan  
 B Tangguh kerja pembinaan  
 C Pindah ke kawasan lain  
 D Jalankan upacara semah

[ Lihat sebelah

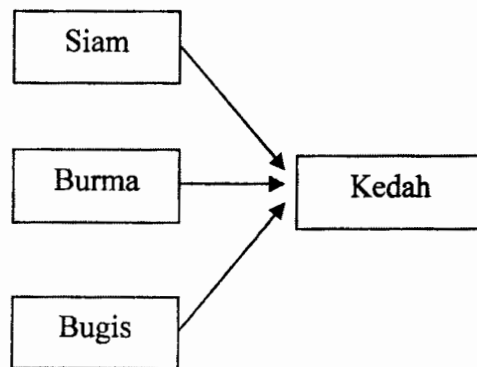
15

Sultan Brunei telah mengurniakan jajahan utara Sabah kepada sultan Sulu pada abad ke-17

Salasilah Brunei - 1880

Mengapakah sultan Brunei berbuat demikian ?

- A Membalas jasa
  - B Tanda persahabatan
  - C Lambang persaudaraan
  - D Memberi pengiktirafan
16. Rajah berikut menunjukkan ancaman luar yang dihadapi oleh Kedah pada akhir abad ke-18.



Bagaimanakah Kedah menangani ancaman tersebut ?

- A Meminta bantuan luar
- B Menghantar bunga emas
- C Memperkukuh kubu pertahanan
- D Mengamalkan dasar buka pintu

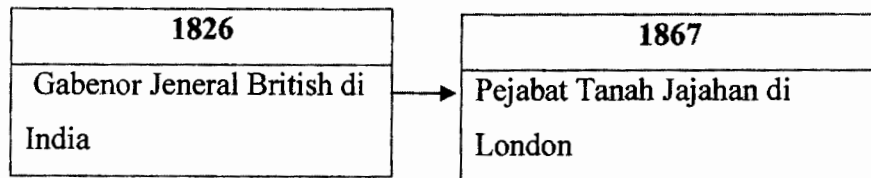
17

- |   |
|---|
| <ul style="list-style-type: none"><li>• Melaka</li><li>• Betawi</li></ul> |
|---|

Peristiwa yang membolehkan Syarikat Hindia Timur Inggeris (SHTI) menguasai negeri-negeri tersebut pada kurun ke-19 ialah

- A Perjanjian Burney
- B Perjanjian Bangkok
- C Perjanjian Surat-surat Kew
- D Perjanjian Inggeris-Belanda

18 Jadual berikut menunjukkan perubahan pentadbiran Negeri-Negeri Selat.



Apakah faktor yang menyebabkan perubahan tersebut ?

- I Pertukaran pucuk pimpinan
  - II Perpindahan ibu negeri
  - III Pergaduhan kongsi gelap
  - IV Penghapusan taraf pelabuhan bebas
- A I dan II
  - B I dan IV
  - C II dan III
  - D III dan IV

[ Lihat sebelah

- 19 Jadual berikut menunjukkan peristiwa campur tangan British di negeri-negeri Melayu.

Tahun	Negeri
1874	Perak
1874	Selangor

Mengapakah British campur tangan berbuat demikian ?

- A Menamatkan perebutan kuasa
- B Menguasai kawasan pertanian
- C Menyeragamkan pentadbiran
- D Menyekat kemasukan imigran

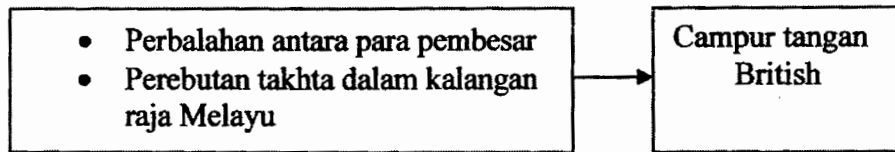
20

Tahun	Peristiwa
1873	Kapal dagang dirompak berdekatan dengan Langat
1874	Rumah api di Tanjung Rachado diserang

Apakah kesan daripada peristiwa tersebut ?

- A Perebutan takhta tercetus
- B Kedaulatan negeri tercabar
- C Kemasukan imigran tersekat
- D Pengedaran makanan terputus

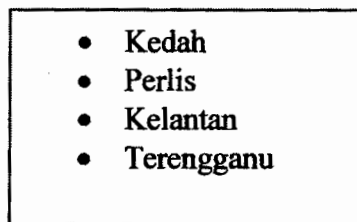
21. Rajah berikut berkaitan dengan peristiwa campur tangan di negeri-negeri Melayu.



Apakah pengajaran daripada peristiwa tersebut?

- A Bersedia mempertahankan negara
- B Berhati-hati terhadap propaganda
- C Bersikap kepimpinan cemerlang
- D Berwaspada dalam tindakan

22



Perjanjian Bangkok 1909 menyebabkan negeri-negeri tersebut

- A menjadi jajahan British
- B menerima naungan Siam
- C mendapat Hak Wilayah Asingan
- D menyertai Negeri-negeri Melayu Bersekutu

[ Lihat sebelah

- 23 Perlembagaan berikut diperkenalkan pada tahun 1911 oleh Sultan Zainal Abidin III.

Undang-Undang Tubuh Kerajaan Terengganu

Mengapakah perlembagaan tersebut diperkenalkan?

- A Menjaga keamanan
- B Memelihara kedaulatan
- C Menjalin hubungan luar
- D Menggalak kemasukan imigran

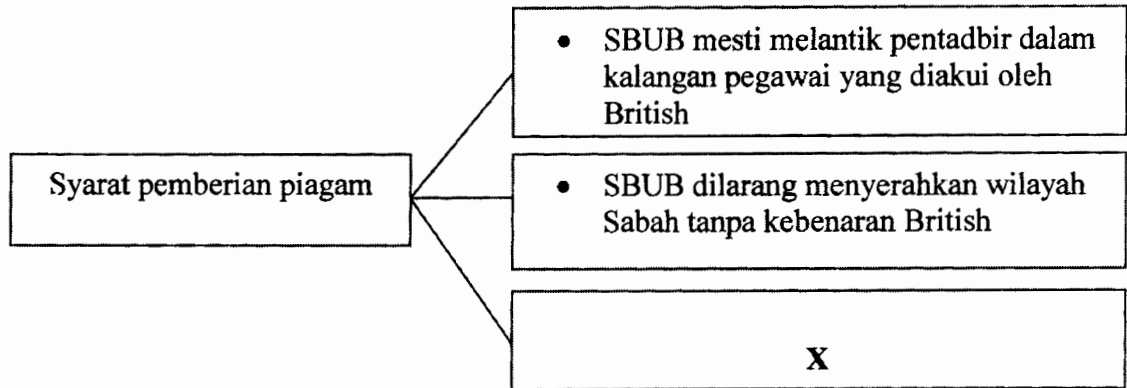
24

Tahun	Peristiwa
1930-an	Kebangkitan penduduk tempatan menentang pemerintahan Pangeran Indera Mahkota.

Apakah tindakan sultan Brunei seterusnya ?

- A Menghantar wakil baru
  - B Mengiktiraf pemimpin tempatan
  - C Memperbesar pasukan keselamatan
  - D Menguatkuasakan undang-undang
- 25 Keluarga Brooke tidak menggalakkan kemasukkan pelabur asing secara besar-besaran pada masa pemerintahannya di Sarawak.
- Mengapakah tindakan tersebut diambil ?
- A Menjaga kepentingan ekonomi
  - B Memelihara kebajikan penduduk
  - C Mengurangkan kadar pengangguran
  - D Menghalang kegiatan kongsi gelap

26 Rajah berikut merupakan antara syarat pemberian Piagam Diraja kepada Persatuan Sementara Borneo Utara British Berhad.



Apakah X?

- A SBUB memelihara agama penduduk tempatan
- B SBUB mengekat kemasukan orang dagang
- C SBUB melaksanakan kutipan cukai baru
- D SBUB membayar ufti tahunan

27

Mahkamah Anak Negeri telah ditubuhkan semasa pemerintahan Syarikat Borneo Utara British di Sabah.

Apakah kesimpulan yang dapat dibuat daripada pernyataan tersebut ?

- A Bidang kuasa residen diiktiraf
- B Taraf hidup penduduk dimajukan
- C Undang-undang Barat dikuatkuasakan
- D Kewibawaan pemimpin peribumi dipertingkat

[ Lihat sebelah

- 28 Senarai berikut merujuk kepada faktor perkembangan perusahaan getah di Tanah Melayu pada awal kurun ke-20.

<ul style="list-style-type: none"> <li>• Kejatuhan harga kopi</li> <li>• Pelaburan modal asing</li> <li>• X</li> </ul>
--

X ialah

- A penglibatan pembesar tempatan  
 B peningkatan permintaan dunia  
 C perubahan pucuk pimpinan  
 D pengenalan buruh paksa
- 29 Rajah berikut menunjukkan tindakan yang diambil pada tahun 1930-an.

Tahun	Peristiwa
1931	Perjanjian Bijih Timah Antarabangsa

Mengapakah perjanjian tersebut ditandatangani ?

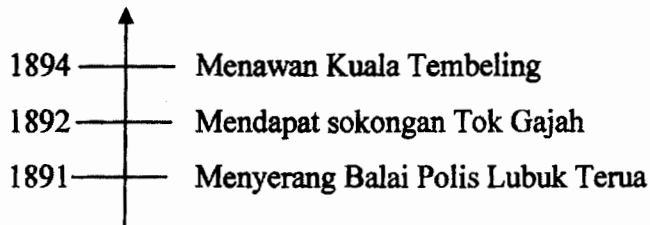
- A Menstabilkan harga bijih timah  
 B Meningkatkan pengeluaran bijih timah  
 C Memperkemas pemasaran bijih timah  
 D Mempelbagaikan hasil bijih timah

- 30 Jadual berikut menunjukkan petempatan penduduk mengikut kaum di Tanah Melayu semasa penjajahan British.

Kaum	Petempatan
Melayu	Desa
Cina	Bandar
India	Ladang getah

Apakah kesan daripada keadaan tersebut ?

- A Perpaduan sukar dicapai
  - B Pertikaian sempadan terjadi
  - C Pendidikan kebangsaan terbentuk
  - D Penguatkuasaan undang-undang baru
- 31 Garis masa berikut berkaitan dengan perjuangan Dato' Bahaman di Pahang



Apakah kesan daripada perjuangan tersebut?

- A Kuasa sultan terpelihara
- B Peranan imigran terancam
- C Pengaruh pembesar tersebar
- D Kedudukan penjajah tergugat

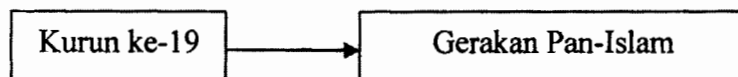
[ Lihat sebelah

- 32 Jadual berikut berkaitan dengan peraturan yang diperkenalkan oleh British di Terengganu

Tarikh	Perkara
1921	Penggunaan pas kebenaran membuka tanah baru
1924	Pembayaran yuran pendaftaran tanah

Mengapakah peraturan tersebut diperkenalkan?

- A Menguasai sumber kekayaan
  - B Menyekat kemasukan imigran
  - C Menyeragamkan jenis tanaman
  - D Memantapkan sistem pengurusan
- 33 Rajah berikut merujuk kepada gerakan kebangkitan Islam di Timur Tengah.



Apakah punca kebangkitan gerakan tersebut ?

- A Kemunculan kuasa Jepun
- B Perluasan pengaruh Barat
- C Persaingan golongan agama
- D Kemunculan ideologi komunis

- 34 Tokoh berikut merupakan nasionalis berpendidikan Inggeris di Tanah Melayu sebelum Perang Dunia Kedua.

- |  |
|--|
| <ul style="list-style-type: none"><li>• Dato' Onn Jaafar</li><li>• Mohammad Eunos Abdullah</li></ul> |
|--|

Bagaimanakah mereka memperjuangkan kepentingan orang Melayu ?

- I Mengasaskan persatuan
  - II Penglibatan dalam pentadbiran
  - III Penubuhan syarikat kerjasama
  - IV Memperkenalkan pendidikan kebangsaan
- A I dan II
  - B I dan IV
  - C II dan III
  - D III dan IV
- 35 Kesatuan Melayu Muda (KMM) yang ditubuhkan pada tahun 1938 bermatlamat membebaskan Tanah Melayu daripada penjajahan Barat.
- Bagaimanakah pertubuhan tersebut mencapai matlamatnya ?
- A Menaungi persatuan negeri
  - B Menyertai persatuan serantau
  - C Menubuhkan sekolah latihan tentera
  - D Mengadakan kerjasama dengan kuasa asing

[ Lihat sebelah

36 Senarai berikut merujuk kepada tindakan British di Tanah Melayu semasa Perang Dunia Kedua

- Meletupkan jambatan
- Merosakkan jalan raya
- Memusnahkan ladang-ladang

Mengapakah British bertindak demikian?

- A Melumpuhkan ekonomi negara
  - B Menentang keganasan komunis
  - C Menyekat perpindahan penduduk
  - D Menghapuskan kebangkitan rakyat
- 37 Akhbar berikut diterbitkan di Tanah Melayu semasa Perang Dunia Kedua.



Apakah peranan akhbar tersebut ?

- A Menyebarkan propaganda Jepun
- B Melaporkan pemberontakan Dato' Bahaman
- C Menyiarkan berita kegiatan ekonomi imigran
- D Memuatkan peristiwa keganasan komunis

- 38 Dialog berikut mungkin berlaku pada zaman pendudukan Jepun di Tanah Melayu.

Jeneral Yamashita:	Kita akan tubuhkan Sekolah Latihan Kepimpinan
Pegawai Jepun:	Bagus cadangan tuan. Kita laksanakan dengan segera

Mengapakah sekolah tersebut ditubuhkan ?

- A Melatih pegawai tentera
- B Menambah pegawai awam
- C Memartabatkan kedudukan wanita
- D Melahirkan cendekiawan tempatan

39

Pada bulan September 1945, Pentadbiran Tentera British ditubuhkan di Tanah Melayu
---

Apakah kejayaan yang dicapai ?

- A Menyekat pengaruh asing
- B Mengelakkan perebutan kuasa
- C Melahirkan pemimpin tempatan
- D Mendaulatkan undang-undang

[ Lihat sebelah

- 40 Senarai berikut berkaitan dengan tujuan penubuhan Malayan Union di Tanah Melayu.

- Menjimatkan perbelanjaan
- Mewujudkan pentadbiran yang cekap
- X

Apakah X?

- A Mengukuhkan pertahanan
  - B Mempercepatkan kemerdekaan
  - C Mengehadkan pengaruh imigran
  - D Memulihkan pengaruh raja
- 41 Kata-kata berikut diucapkan oleh Dato' Onn Jaafar dalam menentang Malayan Union.

“Barang siapa di antara orang Melayu yang menyertai pertubuhan ini tiada diakui Melayu”

Akhbar Majlis

4 April 1946

Mengapakah beliau bertindak demikian ?


- A Tamadun bangsa terhakis
- B Kemasukan imigran disekat
- C Kesatuan negeri diharamkan
- D Syarat kerakyatan diperketatkan

42 Apakah peranan tokoh berikut di Tanah Melayu selepas Perang Dunia Kedua?

- Halimahton Abdul Majid
- Cikgu Zahara Abdullah
- Datin Puteh Mariah Ibrahim Rashid

- A Mencetuskan idea penubuhkan Parti Perikatan
- B Menghapuskan pengaruh golongan radikal
- C Menggubal perlembagaan merdeka
- D Menyokong perjuangan UMNO

43 Gambar berikut menunjukkan keganasan komunis di Tanah Melayu.

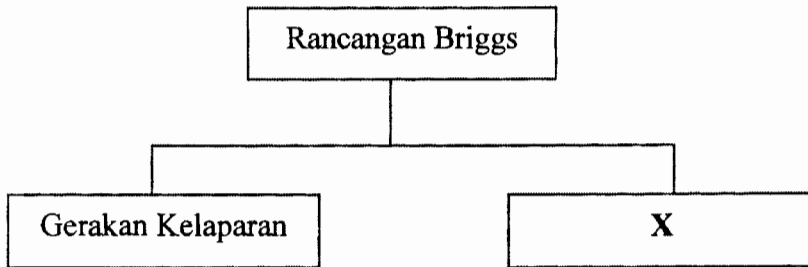


Mengapakah mereka bertindak demikian ?

- A Memecahbelahkan penduduk
- B Melumpuhkan ekonomi negara
- C Melambatkan pergerakan tentera
- D Mengurangkan pengaruh nasionalis

[ Lihat sebelah

44 Rajah berikut berkaitan dengan langkah kerajaan menghadapi ancaman komunis.



Apakah X ?

- A Pelancaran perang saraf
- B Penubuhan Homeguard
- C Perpindahan penduduk setingan
- D Pengisytiharan Undang-undang Darurat

45 Peta berikut merujuk kepada tempat berlakunya Rundingan Baling



Mengapakah rundingan tersebut menemui kegagalan ?

- A Pendudukan tentera Jepun
- B Penentangan kerajaan British
- C Keengganan mengiktiraf PKM
- D Kekurangan sokongan orang Cina

46 Maklumat berikut merujuk kepada parti yang ditubuhkan oleh Dato' Onn Jaafar.

- Parti Negara
- Independence of Malaya Party (IMP)

Apakah matlamat penubuhan parti tersebut ?

- A Mewujudkan perpaduan kaum
- B Mendapatkan taraf berkerajaan sendiri
- C Menentang pelaksanaan Malayan Union
- D Memenangi pilihanraya Majlis Perbandaran


47 Apakah persamaan di antara laporan pelajaran berikut ?

- Ordinan Pelajaran 1952
- Laporan Razak 1956

- A Mewajibkan pendidikan sekolah rendah
- B Mengadakan sukatan pelajaran yang sama
- C Menyeragamkan pengurusan sekolah rendah
- D Memperkenalkan latihan perguruan yang sama

[ Lihat sebelah

48 Gambar berikut merupakan tokoh politik di negara kita.



**Dato' Onn Jaafar**

Bagaimanakah tokoh tersebut menyatupadukan kaum di Tanah Melayu ?

- A Mengasaskan Parti Perikatan
- B Menghapuskan kerakyatan jus soli
- C Memperkenalkan pendidikan vernakular
- D Mencadangkan pembentukan Sistem Ahli

- 49 Jadual berikut menunjukkan keputusan Pilihan Raya Majlis Perundangan Persekutuan pada tahun 1955.

<i>Parti</i>	<i>Kerusi Ditandingi</i>	<i>Kerusi Dimenangi</i>
Perikatan	52	51
Parti Negara	30	-
Parti Islam Se-Malaya	11	1

Apakah kesimpulan yang dapat dibuat berdasarkan kejayaan Parti Perikatan ?

- A Rajin berusaha tangga kejayaan
  - B Permuafakatan membawa kejayaan
  - C Sikap bertanggungjawab asas kejayaan
  - D Kewibawaan pemimpin penentu kejayaan
- 50 Jadual berikut berkaitan dengan rundingan yang diadakan antara wakil Persekutuan Tanah Melayu dengan kerajaan British.

<i>Tarikh</i>	18 Januari – 8 Februari, 1956
<i>Peristiwa</i>	Rundingan di London

Mengapakah rundingan tersebut dianggap suatu kejayaan bagi Tanah Melayu ?

- A Penetapan tarikh kemerdekaan
- B Penghapusan pengaruh komunis
- C Pengiktirafan terhadap Parti Perikatan
- D Penerimaan keputusan Pilihan Raya Umum

[ Lihat sebelah

- 51 Petikan berikut merupakan sebahagian daripada laporan akhbar Times di London pada tahun 1956.

“ Hari bersejarah bagi Tanah Melayu. Perjanjian London ditandatangani.... Dari tarikh perjanjian ini hingga tarikh kemerdekaan, kedua-dua pihak mempunyai satu tahun enam bulan untuk membuat persediaan.”

*Times*  
*8 Februari 1956*

Apakah persediaan yang perlu dilakukan oleh kedua-dua pihak ?

- A Menganjur pilihan raya
- B Menyatupadukan rakyat
- C Merangka perlembagaan baru
- D Menamatkan ancaman komunis

- 52 Dialog berikut menerangkan reaksi terhadap draf perlembagaan yang dikeluarkan oleh Suruhanjaya Reid pada Februari, 1957.

Tunku Abdul Rahman	:	Orang Melayu berasa tidak puas hati dengan draf perlembagaan yang dikeluarkan oleh Suruhanjaya Reid
Tun Tan Cheng Lock	:	Begitu juga dengan orang Cina !

Rasa tidak puas hati timbul kerana isu

- I bahasa
  - II kerakyatan
  - III pendidikan
  - IV imigresen
- A I dan II
  - B I dan IV
  - C II dan III
  - D III dan IV
- 53 Apakah nilai yang perlu dimiliki oleh rakyat negara kita untuk mengelakkan peristiwa penjajahan berulang lagi ?
- A Jujur
  - B Cekal
  - C Amanah
  - D Hemah tinggi

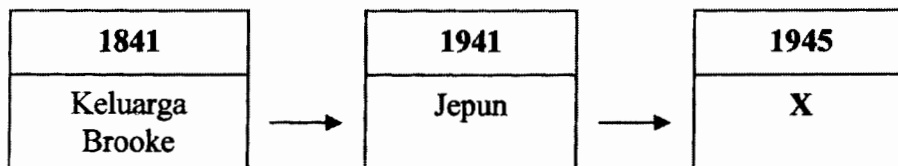
[ Lihat sebelah

- 54 Pernyataan berikut menerangkan perlembagaan yang diperkenalkan di Sarawak.

Pada bulan Januari 1941, Charles Vyner Brooke telah memperkenalkan Perlembagaan 1941 sempena 100 Tahun Pengambilan Sarawak.

Mengapakah perlembagaan tersebut gagal dilaksanakan ?

- A Sarawak dijajah Jepun
  - B Sarawak diambil alih British
  - C Sarawak diancam kegiatan komunis
  - D Sarawak mengalami masalah kewangan
- 55 Carta alir berikut merujuk kepada perkembangan pemerintahan di Sarawak.



X ialah

- A Pentadbiran Rukun 13
- B Pentadbiran Bintang Tiga
- C Pentadbiran Tentera British
- D Pentadbiran Anthony Brooke

- 56 Maklumat berikut menerangkan keadaan di Sarawak selepas Perang Dunia Kedua.

<b>Masalah Negeri Sarawak</b>
➤ Mengalami kemusnahan akibat perang
➤ Tidak mempunyai sumber kewangan untuk pembangunan

Bagaimanakah pemerintah Sarawak mengatasi masalah tersebut ?

- A Mendapatkan bantuan modal negara Barat
  - B Menyerahkan pentadbiran kepada kerajaan British
  - C Membenarkan kemasukan imigran dari negara China
  - D Memajakkan tanah pertanian kepada Kesultanan Brunei
- 57 Petikan berikut merupakan sebahagian daripada ucapan Tunku Abdul Rahman di Hotel Adelphi, Singapura pada tahun 1961.



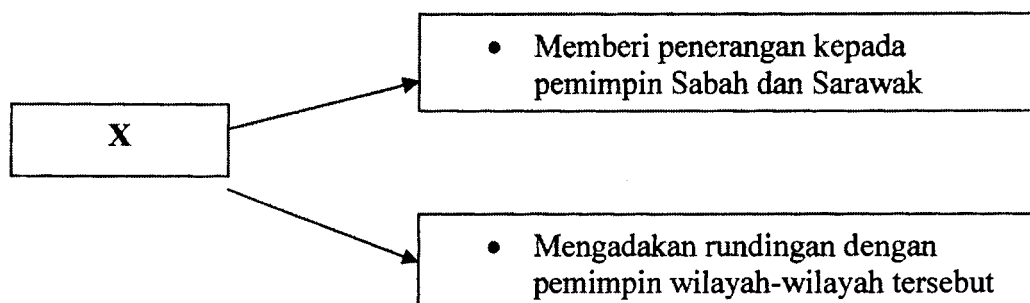
“ ..... Lambat-laun Tanah Melayu harus bersefahaman dengan Britain dan rakyat-rakyat Singapura, Borneo Utara, Brunei dan Sarawak....”

Apakah cadangan Tunku untuk mencapai matlamat tersebut ?

- A Penubuhan ASEAN
- B Pembentukan Parti Perikatan
- C Penubuhan gagasan Malaysia
- D Pembentukan MAPHILINDO

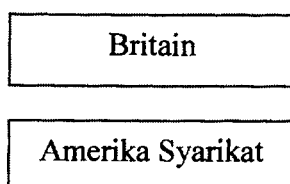
[ Lihat sebelah

- 58 Rajah berikut merujuk kepada usaha X dalam merealisasikan idea gagasan Persekutuan Malaysia.



X ialah

- A Suruhanjaya Cobbold
  - B Jawatankuasa Antara Kerajaan
  - C Jawatankuasa Perundingan Perpaduan Malaysia
  - D Suruhanjaya Pertubuhan Bangsa-Bangsa Bersatu
- 59 Maklumat berikut merujuk kepada negara-negara Barat yang menyokong idea pembentukan Malaysia.



Mengapakah negara tersebut bertindak demikian ?

- A Perkembangan komunis dapat disekat
- B Penentangan rakyat dapat dikurangkan
- C Perpaduan kaum dapat dipertingkatkan
- D Perluasan pengaruh asing dapat diteruskan

60 Mengapakah persidangan berikut dianjurkan ?

<b>Tarikh</b>	<b>Persidangan</b>
Julai 1963	Sidang Kemuncak di Manila
Februari 1964	Persidangan di Bangkok
Jun 1964	Persidangan di Tokyo

- A Menamatkan konfrontasi
- B Menjalin kerjasama pendidikan
- C Membentuk pakatan ketenteraan
- D Menghapuskan ancaman komunis

**KERTAS SOALAN TAMAT**

**SKIMA JAWAPAN PEPERIKSAAN PERCUBAAN PMR 2009 (SEJARAH PMR)**

NO SOALAN	JAWAPAN	TING	BAB	M/S	NO SOALAN	JAWAPAN	TING	BAB	M/S
1	A	1	1	5	31	D	2	7	181
2	C	1	2	21	32	A	2	7	191
3	C	1	3	38	33	B	2	8	201
4	B	1	4	51	34	A	2	8	206
5	A	1	4	52	35	D	2	8	215
6	B	1	5	66	36	A	3	1	10
7	D	1	5	83	37	A	3	1	29
8	A	1	6	95	38	B	3	1	30
9	B	1	6	96	39	D	3	2	48
10	C	1	7	107	40	A	3	2	49
11	D	1	8	123	41	A	3	2	52
12	A	1	9	154	42	D	3	2	62
13	A	1	9	166	43	B	3	3	88
14	C	1	10	186	44	C	3	3	95
15	A	1	11	193	45	C	3	3	104
16	A	2	1	5	46	A	3	4	123
17	C	2	1	13	47	A	3	4	129
18	D	2	1	22	48	D	3	4	131
19	A	2	2	29	49	B	3	4	141
20	B	2	2	39	50	A	3	5	151
21	C	2	2	49	51	C	3	5	153
22	A	2	3	57	52	A	3	5	155
23	B	2	3	61	53	B	3	5	167
24	A	2	4	79	54	A	3	6	174
25	A	2	4	87	55	C	3	6	174
26	A	2	5	104	56	<del>B</del>	3	6	175
27	D	2	5	108	57	C	3	7	202
28	B	2	6	132	58	C	3	7	203
29	A	2	6	138	59	A	3	7	213
30	A	2	6	144	60	A	3	7	221

**SKIMA JAWAPAN PEPERIKSAAN PERCUBAAN PMR 2009 (SEJARAH PMR)**

NO SOALAN	JAWAPAN	TING	BAB	M/S	NO SOALAN	JAWAPAN	TING	BAB	M/S
1	A	1	1	5	31	D	2	7	181
2	C	1	2	21	32	A	2	7	191
3	C	1	3	38	33	B	2	8	201
4	B	1	4	51	34	A	2	8	206
5	A	1	4	52	35	D	2	8	215
6	B	1	5	66	36	A	3	1	10
7	D	1	5	83	37	A	3	1	29
8	A	1	6	95	38	B	3	1	30
9	B	1	6	96	39	D	3	2	48
10	C	1	7	107	40	A	3	2	49
11	D	1	8	123	41	A	3	2	52
12	A	1	9	154	42	D	3	2	62
13	A	1	9	166	43	B	3	3	88
14	C	1	10	186	44	C	3	3	95
15	A	1	11	193	45	C	3	3	104
16	A	2	1	5	46	A	3	4	123
17	C	2	1	13	47	A	3	4	129
18	D	2	1	22	48	D	3	4	131
19	A	2	2	29	49	B	3	4	141
20	B	2	2	39	50	A	3	5	151
21	C	2	2	49	51	C	3	5	153
22	A	2	3	57	52	A	3	5	155
23	B	2	3	61	53	B	3	5	167
24	A	2	4	79	54	A	3	6	174
25	A	2	4	87	55	C	3	6	174
26	A	2	5	104	56	<del>B</del>	3	6	175
27	D	2	5	108	57	C	3	7	202
28	B	2	6	132	58	C	3	7	203
29	A	2	6	138	59	A	3	7	213
30	A	2	6	144	60	A	3	7	221